


LUNES 15-6-20

ARTS


MY ROCK ANIMAL

Choose an animal



Paint your rock

Plan the details of your rock



Paint your details



RELIGIÓN

Leemos el texto adjunto. SESIÓN 16



JESÚS MUERE EN LA CRUZ

Jesús está ya en la Cruz, como un ladrón más, entre dos ladrones. Los fariseos se burlan: «Si eres Hijo de Dios, baja de la Cruz y creeremos en Ti». Mientras, Jesús reza y le pide a Dios: «Padre, perdónales porque no saben lo que hacen». Al pie de la cruz están la Virgen María y Juan el apóstol. Jesús nos da a su Madre como Madre nuestra antes de morir. Luego dijo Jesús: «Todo se ha cumplido». E inclinando la cabeza, murió.

Canción poesía: «Madrecita»

*Madrecita de todos los niños,
Que estás en el cielo rezando por mí,
Si algún día tu hijito no es bueno,
Cógelo en tus brazos y acurrúcale.
Por las noches, cuando esté dormido,
Ven junto a mi cama,
Ven y bésame.
Con tu manto de luna y estrellas,
Cúbreme en tus brazos y acurrúcame.*

* * *

JESÚS ES BAJADO DE LA CRUZ

Dos hombres buenos y valientes bajan el cuerpo de Jesús y se lo dan a su Madre, que lo recibe en sus brazos con inmenso cariño y dolor. Después, le vendan con aromas y perfumes y lo ponen en un sepulcro nuevo, cavando en una roca que estaba cerca de allí.



En nuestro cuaderno ponemos la fecha.

Escribimos el título (con mayúsculas y color) y un resumen del texto correspondiente. Dejamos una línea de separación y hacemos lo mismo con el segundo texto.

(Tenemos en cuenta lo que está subrayado).

Copiamos la oración en nuestro cuaderno.

LENGUA

Buenos días, empezamos el tema 12 . ¡El último!

De este tema vamos a trabajar los siguientes puntos (escríbelo en el cuaderno):

1º Familia de palabras

2º clases de oraciones.

3º Palabras terminadas en -d -z -y

La lectura del tema.

Leer la lectura pág. 219,220 y los ejercicios pág.221 1,2,3 en el libro.

Escribimos en el cuaderno cómo os he dicho los contenidos que vamos a trabajar del tema.

SOCIALES

Estudiar las páginas 110 y 111.

Estudiar bien las Edades de la Historia.

Actividades

Página 111 el 22 y 23.

Página 112 el esquema en el cuaderno.

Como el viernes es fiesta haces también el test de la página 116.

MATEMÁTICAS

Adjuntos

Nombre: Fecha: Curso:

1 Completa estas afirmaciones.

- 1 € es igual a CENT.
- 2 € y 50 CENT es igual a CENT.
- 5 monedas de 20 CENT es igual a €.
- 4 monedas de 50 CENT es igual a €.
- 10 monedas de 10 CENT es igual a €.

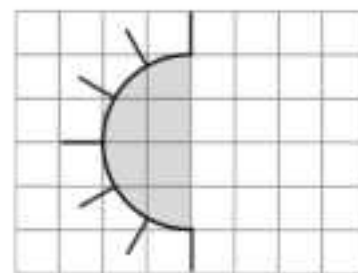
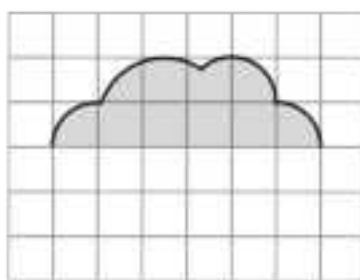
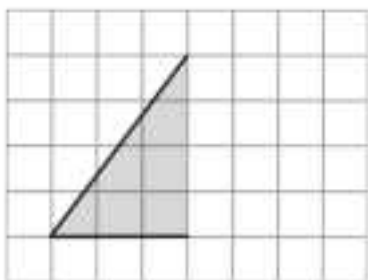
2 Pedro, Marta y Miguel han ido al supermercado. Averigua de quién es este tique de la compra.

- Pedro ha pagado su compra con cuatro monedas de 2 € y una de 50 CENT.
- Marta ha pagado con dos billetes de 5 € y una moneda de 1 €.
- Miguel ha pagado con cinco monedas de 1 € y un billete de 5 €.

El tique de la compra es de
..... y le han devuelto
.....

Huevos	1,50 €
Galletas	2 €
Leche (x6)	3 €
Cereales	2,50 €
Fruta	1,50 €
TOTAL:	10,50 €

3 Dibuja la otra mitad de las figuras para que sean simétricas.



Nombre: Fecha: Curso:

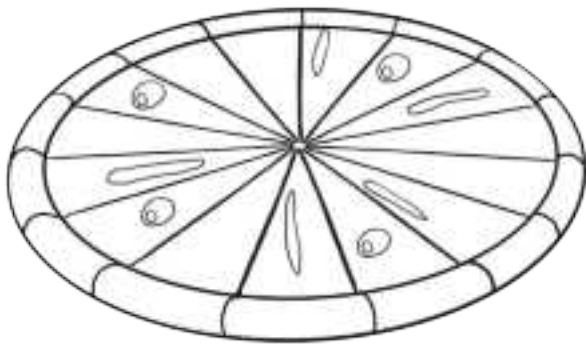
- 1 Lucas ha ido a una librería y se ha gastado 12 €. Su hermana Lucía se ha gastado la mitad y su primo Ismael, la cuarta parte. ¿Cuánto se han gastado Lucía e Ismael? Calcula.

Lucas → €

$12 : \dots = \dots \rightarrow$ Lucía se ha gastado €.

$12 : \dots = \dots \rightarrow$ Ismael se ha gastado €.

- 2 En casa de María los domingos siempre cenan pizza. Esta noche su hermano no está y solo cenan tres. Pinta de rojo cuántas porciones corresponden a María.



$15 : \dots = \dots$

► María se comerá
porciones de pizza.

- 3 Coloca en torre y resuelve las operaciones siguientes.

Sumandos:
398, 267, 289

Sustraendo: 728
Minuendo: 386

Factores:
245 y 3

