

MATEMÁTICAS

Trabajas unas operaciones y las fichas enviadas

E.F.

Lo que hacemos son propuestas semanales, así que sirven para los dos días de E.F.

LENGUA

Me gustaría que me enviase el trabajo del comic.

Hoy trabaja el resumen de la pág 180 en tu cuaderno y el eje.2º en el libro. Es conveniente e importante que lo hagas mañana haremos el repaso del tema 9.

Animo,a trabajar!!!!

SCIENCE

8 Copy this chart and classify each natural material in the right column.

Animal origin	Plant origin	Mineral origin
•••	•••	•••

silk cotton leather clay

wood cork marble

4 Match the objects to their properties.

- a) strong, hard, conducts heat
- b) transparent, impermeable, does not conduct heat
- c) strong, flexible, elastic



plastic cup



T-shirt



fork

ENGLISH

Powerpoint de las horas (o'clock, a quarter past, half past and a quarter to)

Hay un ejercicio al final para practicar, que haremos en el cuaderno.

https://sagradocorazondejesusburgos-my.sharepoint.com/:p:/g/personal/qkt6dgs7_sagradocorazondejesusburgoso365_educamos_com/ERHb7I8QJVBL0GroHDzw7kBBO4uZI_HZHw7bU4MrOkalA?e=bim0I8

Nombre: Fecha: Curso:

1 Observa el ejemplo y completa.

$$5 \times 8 = 40 \rightarrow 5 + 5 + 5 + 5 + 5 + 5 + 5 + 5 = 40$$

$$5 \times 3 = \dots \rightarrow \dots + \dots + \dots = \dots$$

$$4 \times 5 = \dots \rightarrow \dots + \dots + \dots + \dots + \dots = \dots$$


$$4 \times 7 = \dots \rightarrow \dots + \dots + \dots + \dots + \dots + \dots + \dots = \dots$$

$$8 \times 4 = \dots \rightarrow \dots + \dots + \dots + \dots = \dots$$

$$8 \times 8 = \dots \rightarrow \dots + \dots + \dots + \dots + \dots + \dots + \dots + \dots = \dots$$

$$10 \times 6 = \dots \rightarrow \dots + \dots + \dots + \dots + \dots + \dots = \dots$$

2 Fíjate en la hora de los relojes y continua las series.



Buenos días familias!!!!

Esperamos que todos sigáis bien. Suponemos que ahora que podemos salir un ratito a la calle a pasear, andar en bici, coger el patinete, jugar con el balón... algo mejor estamos y si encima lo acompañamos con este tiempo tan bueno pues mejor todavía.

Así que ahora podéis aprovechar también la calle para jugar y por eso esta semana os vamos a proponer un ejercicio más relajado para hacer luego en casa. Como os ya os dijimos, vamos a ir realizando diferentes actividades y la de esta semana es **YOGA KIDS**.



Para ello entráis de nuevo en el siguiente enlace para 3º y 4º de E. Primaria:

<https://view.genial.ly/5e70bea39bab6d0fc27db5c9/presentation-efecto-vida-3o-y-4o>

A la derecha de la imagen os aparecen unas flechas, vais dando a la de abajo y pasando páginas hasta que lleguéis a la que pone **YOGA KIDS**. El yoga ayuda mucho a: conocerse mejor, a respirar, mejora tu flexibilidad y muchas más cosas...

¿Cuántas posturas eres capaz de realizar? ¡Concéntrate y relájate!

Aparte de los dibujos que tienes en la página puedes visualizar el siguiente vídeo de yoga para niños, igual te resulta más fácil seguirlo y como tiene música, a la vez, te ayuda a relajarte.

<https://youtu.be/3LAHjw1umTI>

Y este otro te enseña el **saludo al sol** que puedes practicar todos los días y aparte tiene más posturas de yoga para niños, muy divertido.

<https://www.youtube.com/watch?v=wiT8YwqNGu4>

Y este tiene una canción para hacer el saludo al sol, por si alguno le gusta cantar y hacer yoga a la vez....

<https://www.youtube.com/watch?v=VYrT5t8STjl>

Para ver lo bien que lo hacéis una vez que practiquéis las diferentes posturas, elegís una y os hacéis **una foto** y nos la mandáis. Os recordamos que seguimos esperando algunas de las fotos de los juguetes de antes, los que faltáis, cuando podáis, nos las enviáis por favor.

Si alguno tiene alguna dificultad, duda para hacerlo, que nos lo diga sin ningún problema y con toda confianza.

iiiiMuchas gracias como siempre por vuestra colaboración!!!!

Un saludo y cuidaos todos mucho,

Tus profes de E.F.
3º E.P. Rodrigo
4º E.P. Carlos

Nombre: Fecha: Curso:

- 1 Utiliza una regla y dibuja un retrato de ti mismo utilizando únicamente figuras planas.

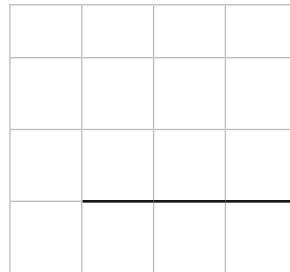


- 2 Coloca en torre y resuelve.

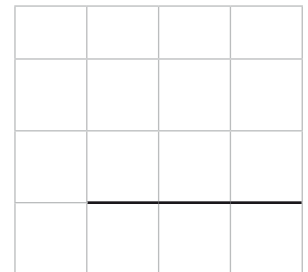
$$640 + 82$$




$$387 + 365$$



$$739 - 472$$



$$530 - 237$$



$$279 + 498 + 166$$



$$721 - 286$$

