

**LUNES 4-5-20**

**ARTS**

**DUMMY / PUPPETS / MARIONETTE**

Las próximas 3 clases, vamos a construir unas marionetas que la utilizaremos para el teatro que tenemos que hacer y grabarnos en lengua.

**Aquí os dejo uno video para que os inspiréis, por supuesto son en inglés, ya que a asignatura es en inglés.**

**No dudéis en contactar conmigo para cualquier duda.**

**How can we built a marionette?**

<https://www.youtube.com/watch?v=ABzHOEtT-s>

<https://www.youtube.com/watch?v=ICTUeUDELRw>

<https://www.youtube.com/watch?v=wYn3LJupTG0>

<https://www.youtube.com/watch?v=71NML8I5L2M>

**RELIGIÓN**

Como el mes de Mayo es el mes dedicado a la Virgen, vamos a aprendernos la Salve.

En este vídeo la podéis escuchar cantada

<https://www.youtube.com/watch?v=nLHZ4CfnZQU>

**La Salve**

Dios te salve,  
Reina y Madre de misericordia,  
vida y dulzura,  
esperanza nuestra.  
Dios te salve.

A Ti clamamos los desterrados hijos de Eva.  
A Ti suspiramos, gimiendo y llorando,  
en este valle de lágrimas.  
Ea, pues, Señora, abogada nuestra,

vuelve a nosotros  
esos tus ojos misericordiosos;  
y después de este destierro  
muéstranos a Jesús,  
fruto bendito de tu vientre.

¡Oh, clementísima!  
¡Oh, piadosa!  
¡Oh, dulce Virgen María!

Ruega por nosotros, Santa Madre de Dios,  
para que seamos dignos de alcanzar  
las promesas de Nuestro Señor Jesucristo.  
Amén.

### **LENGUA**

Continúa el trabajo del comic

### **SOCIALES**

Lectura página 82 y 83. Hacer la gráfica de las Edades de la Historia

### **MATEMÁTICAS**

Páginas Adjuntas

Nombre: ..... Fecha: ..... Curso: .....

1 Observa el ejemplo y completa.

$$5 \times 8 = 40 \rightarrow 5 + 5 + 5 + 5 + 5 + 5 + 5 + 5 = 40$$

$$5 \times 3 = \dots \rightarrow \dots + \dots + \dots = \dots$$

$$4 \times 5 = \dots \rightarrow \dots + \dots + \dots + \dots + \dots = \dots$$


$$4 \times 7 = \dots \rightarrow \dots + \dots + \dots + \dots + \dots + \dots + \dots = \dots$$

$$8 \times 4 = \dots \rightarrow \dots + \dots + \dots + \dots = \dots$$

$$8 \times 8 = \dots \rightarrow \dots + \dots + \dots + \dots + \dots + \dots + \dots + \dots = \dots$$

$$10 \times 6 = \dots \rightarrow \dots + \dots + \dots + \dots + \dots + \dots = \dots$$

2 Fíjate en la hora de los relojes y continua las series.



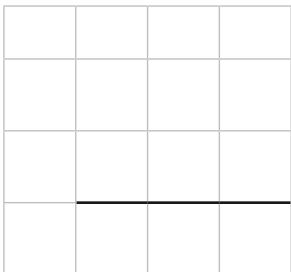
Nombre: ..... Fecha: ..... Curso: .....

- 1 Utiliza una regla y dibuja un retrato de ti mismo utilizando únicamente figuras planas.

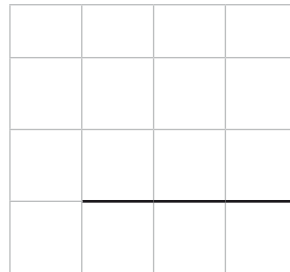


- 2 Coloca en torre y resuelve.

$$640 + 82$$




$$387 + 365$$



$$739 - 472$$



$$530 - 237$$



$$279 + 498 + 166$$



$$721 - 286$$

